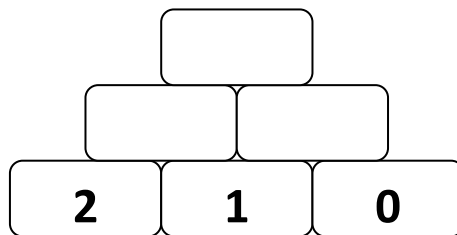
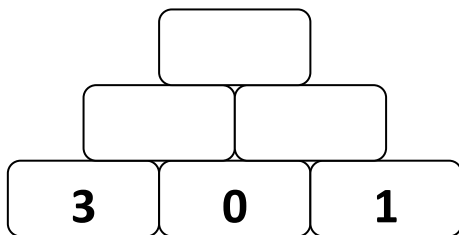
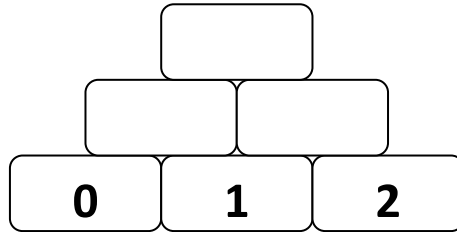
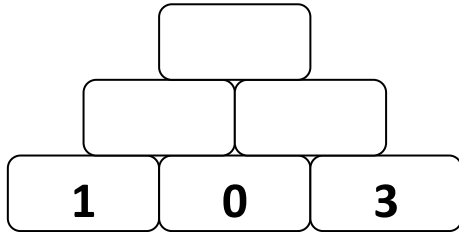


Wie viele Zahlenmauern...?

Name: _____ Klasse: _____ Datum: _____

Aufgabe 1) Zahlenmauern erforschen

a) Rechne die Zahlenmauern aus.



b) Beschreibe: Was fällt dir auf?

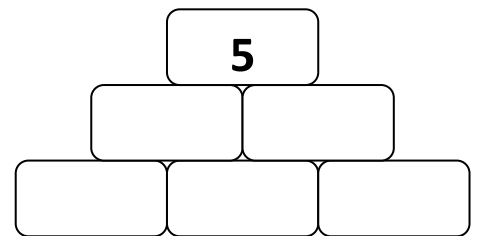
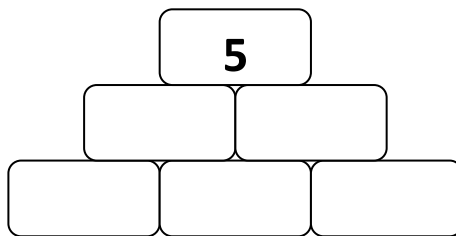
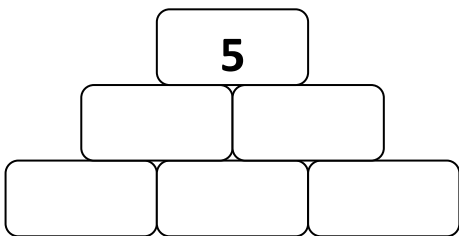
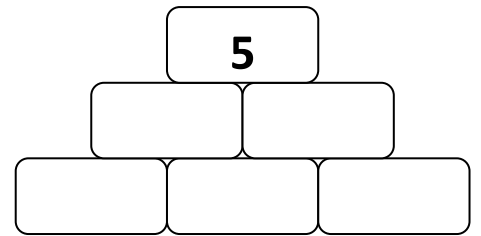
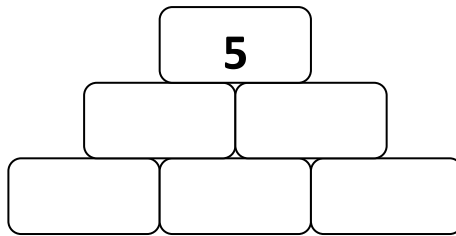
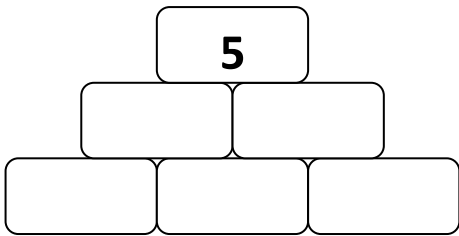
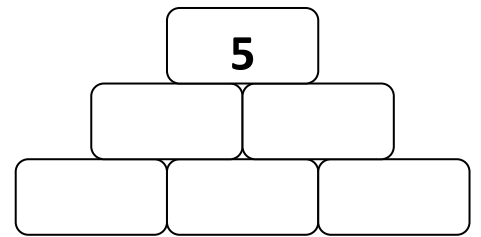
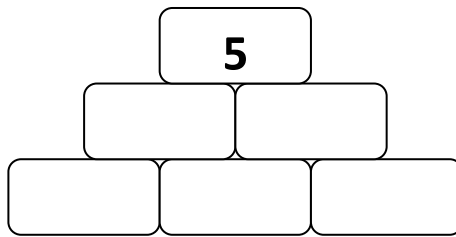
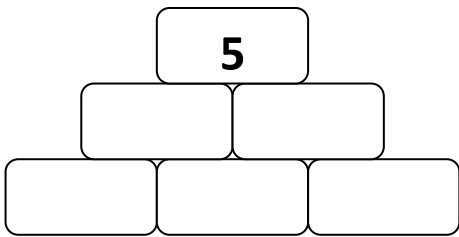
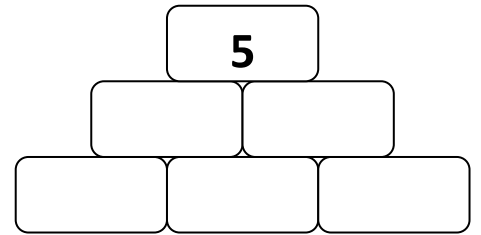
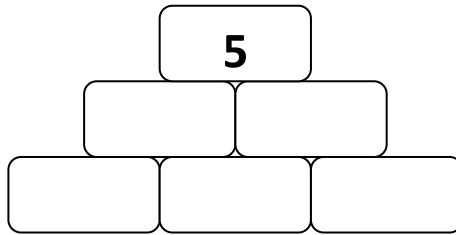
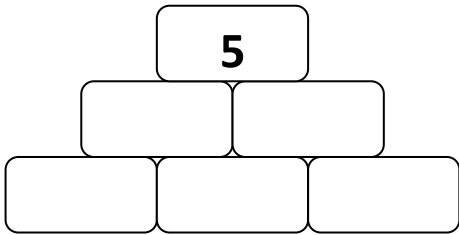
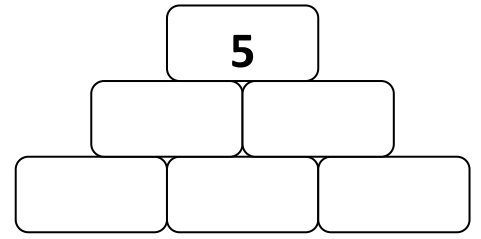
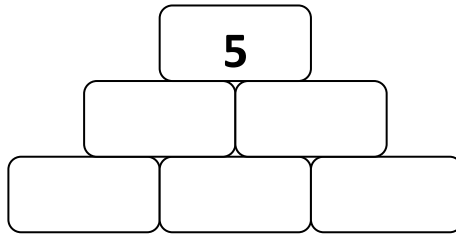
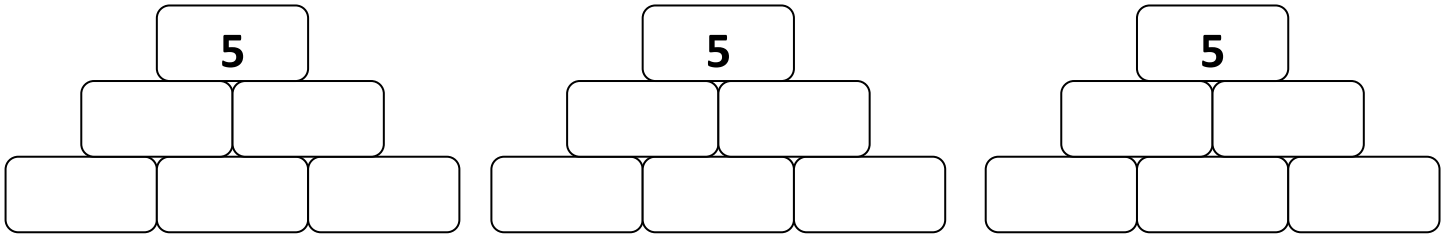


c) Begründe: Warum ist das so?



Aufgabe 2) Zahlenmauern finden

a) Finde alle Zahlenmauern mit Zielzahl 5.



b) Wie viele Zahlenmauern hast du gefunden?

c) Beschreibe: Wie bist du vorgegangen?



d) Begründe: Warum sind das alle Zahlenmauern?



Aufgabe 3) Erfinde selbst leichte und schwierige Zahlenmauern.

a)

Leichte Zahlenmauer	Schwierige Zahlenmauer
<u>Diese Zahlenmauer ist leicht, weil</u> 	<u>Diese Zahlenmauer ist schwer, weil</u>

b)

Leichte Zahlenmauer	Schwierige Zahlenmauer
<u>Diese Zahlenmauer ist leicht, weil</u> 	<u>Diese Zahlenmauer ist schwer, weil</u>